


Haz las agujas de las horas de color rojo y las de los minutos de color azul.

Nombre: _____

Fecha: _____




10 : 30

Son las _____




10 : 00

Son las _____



12 : 30

Son las _____




5 : 30

Son las _____



7 : 00

Son las _____




8 : 30

Son las _____




5 : 30

Son las _____



11 : 00

Son las _____



3 : 30

Son las _____