


Haz las agujas de las horas de color rojo y las de los minutos de color azul.

Nombre: _____

Fecha: _____




5 : 00

Son las _____




4 : 00

Son las _____



10 : 00

Son las _____




3 : 30

Son las _____



6 : 00

Son las _____




2 : 00

Son las _____



1 : 00

Es la _____



1 : 30

Es la _____



8 : 00

Son las _____